




Nom \_\_\_\_\_ Comparaison de quantités ; organisation et interprétation de données (K.CC.C.6; 1.MD.C.4)

# Récolte abondante



Découpez et coller les images qui se ressemblent.

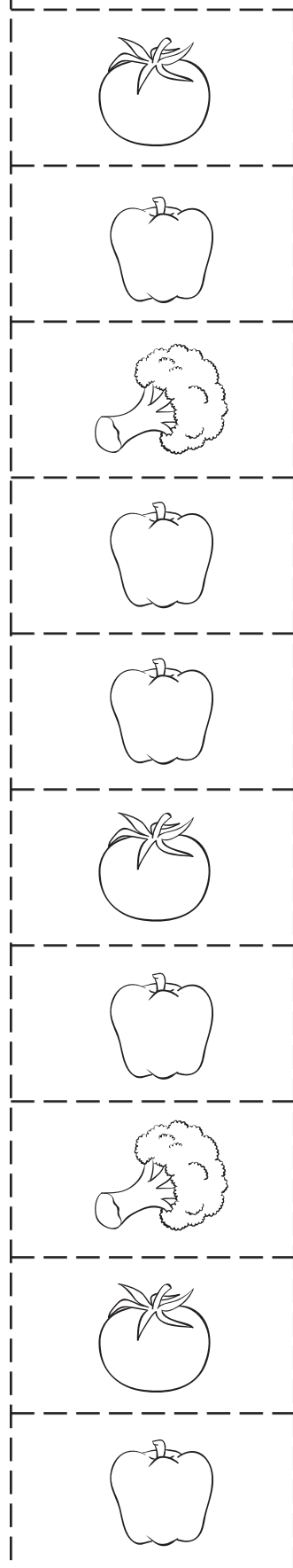
 tomates	 poivrons	 brocoli

Combien y en a-t-il.

 \_\_\_\_\_  \_\_\_\_\_  \_\_\_\_\_

Combien de  de plus que  ? \_\_\_\_\_














Combien de  de plus que  ? \_\_\_\_\_






Tower Garden® peut produire une récolte abondante en quelques semaines seulement.

# «Récolte abondante»

## Feuille de réponse

		
		
		
		
		
 <b>tomates</b>	 <b>poivrons</b>	 <b>brocoli</b>

Combien y en a-t-il.

 5     2     3

Combien de  de plus que  ? 2

Combien de  de plus que  ? 3



[towergarden.com](http://towergarden.com)

© 2016 Tower Garden. Text and design by The Education Center, LLC